



一、看日曆填填看：每格 1 分，共 6 分



- 升旗典禮是 ( 1 ) 月 ( 1 ) 日 星期三 ( 三 )。
- 聖誕節是 ( 12 ) 月 ( 25 ) 日 星期五 ( 五 )。

二、分類填填看：每格 2 分，共 8 分



1. 用形狀分分看。

形狀	心形	花形
數量 (個)	11	7

2. 用顏色分分看。

顏色	灰色	白色
數量 (個)	8	10

三、怎麼換錢會剛好？每格 2 分，共 4 分

- 1 張 100 元可換 10 個 10 元。
- 2 個 50 元可換 1 張 100 元。

四、畫 10 和 1 算算看：每題 2 分，共 4 分

- $41 + 7 = 48$
- $52 - 8 = 44$



五、看月曆填填看：每格 2 分，共 34 分

民國 109 年		1 月					2020
日	一	二	三	四	五	六	
			1 ☀	2 ☀	3 ☁	4 ☁	
5 ☁	6 ☁	7 ☔	8 ☔	9 ☔	10 ☁	11 ☁	
12 ☀	13 ☀	14 ☀	15 ☁	16 ☁	17 ☀	18 ☔	
19 ☔	20 ☔	21 ☔	22 ☁	23 ☁	24 ☀	25 ☁	
26 ☁	27 ☁	28 ☁	29 ☀	30 ☀	31 ☔		

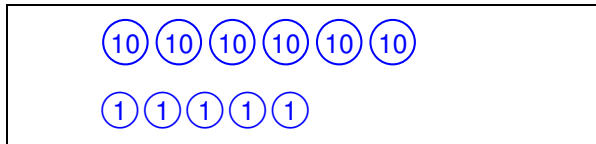
- 這是 ( 1 ) 月的月曆。
- 這個月的最後一天是 ( 1 ) 月 ( 31 ) 日。
- 今天 1 月 23 日是 ( 四 )，昨天 1 月 ( 22 ) 日 ( 三 )。
- 這個月有 ( 4 ) 個星期日。
- 這個月的第四個星期二是 ( 1 ) 月 ( 28 ) 日。
- 媽媽每個星期四要上瑜珈課，這個月一共要上 ( 5 ) 天。
- 小新在月曆上記錄每天的天氣狀況，完成下面的統計表：

天氣	用「正」畫記	數量 (天)
☀	正下	9
☁	正正下	14
☔	正下	8

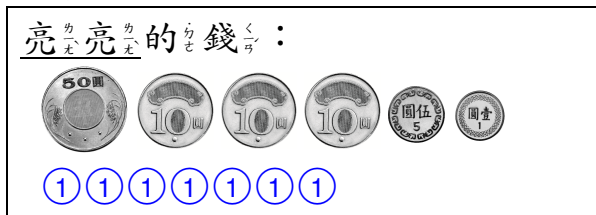
- 這個月哪種天氣最多天？  
 ( ☀ , ☁ , ☔ )

六、用 10 表示 ，用 1 表示 。畫畫看看：每題 4 分，共 8 分（畫法僅供參考）

1. 小傑想買一個 65 元的餐盒，要怎麼付錢才會剛好？畫畫看看。






2. 亮亮想買一個 93 元的套餐，但錢不夠，還要補多少元？畫畫看看。



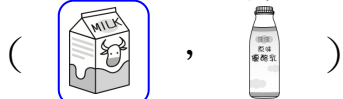
七、做做看看：每答 2 分，共 10 分


▲ 下面是各買 1 罐的價錢。



1. ：97 元；：79 元。

2. 哪種比較貴？圈圈看看。



3. 下面是小恩的錢，有多少？夠不夠買一盒 ？



小恩有 ( 96 ) 元  
( 夠 ， 不夠 )

八、看看圖寫出算式做做看看

看看：每題 4 分，共 8 分



1.  和  共要幾元？

$$89 + 8 = 97$$

2.  比  多幾元？

$$89 - 45 = 44$$

九、米可和 40 個同學各猜

一次拳，結果紀錄如下：

完成表格：每格 2 分，共 6 分

勝負	用「正」畫記	數量
贏	正正正一	16
平手	正正一	11
輸	正正下	13

十、寫出算式做做看看：每

題 4 分，共 12 分

1. 媽媽買了 30 顆雞蛋，炒飯用掉了 3 顆，還剩下幾顆雞蛋？

$$\text{算式： } 30 - 3 = 27$$

還剩下 ( 27 ) 顆雞蛋

2. 遊園車有 24 個座位，21 個小朋友每人坐一個座位，還剩下幾個空座位？

$$\text{算式： } 24 - 21 = 3$$

還剩下 ( 3 ) 個空座位

3. 爸爸煮了 36 個芝麻湯圓和 12 個花生湯圓，爸爸共煮了幾個湯圓？

$$\text{算式： } 36 + 12 = 48$$

煮了 ( 48 ) 個湯圓