



一、看日曆填填看：每格 1 分，共 6 分



- 升旗典禮是 () 月 () 日 星期 ()。
- 聖誕節是 () 月 () 日 星期 ()。

二、分類填填看：每格 2 分，共 8 分



1. 用形狀分分看。

形狀	心形	花形
數量 (個)		

2. 用顏色分分看。

顏色	灰色	白色
數量 (個)		

三、怎麼換錢會剛好？每格 2 分，共 4 分

- 1 張 100 元可換 個 10 元。
- 2 個 50 元可換 張 100 元。

四、畫 10 和 1 算算看：每題 2 分，共 4 分

1. $41 + 7 = \underline{\quad}$ 2. $52 - 8 = \underline{\quad}$

五、看月曆填填看：每格 2 分，共 34 分

民國 109 年		1 月					2020
日	一	二	三	四	五	六	
			1 ☀	2 ☀	3 ☁	4 ☁	
5 ☁	6 ☁	7 ☔	8 ☔	9 ☔	10 ☁	11 ☁	
12 ☀	13 ☀	14 ☀	15 ☁	16 ☁	17 ☀	18 ☔	
19 ☔	20 ☔	21 ☔	22 ☁	23 ☁	24 ☀	25 ☁	
26 ☁	27 ☁	28 ☁	29 ☀	30 ☀	31 ☔		

- 這是 () 月的月曆。
- 這個月的最後一天是 () 月 () 日。
- 今天 1 月 23 日是星期 ()，昨天 1 月 () 日 星期 ()。
- 這個月有 () 個星期日。
- 這個月的第 4 個星期二是 () 月 () 日。
- 媽媽每個星期四要上瑜珈課，這個月一共要上 () 天。
- 小新在月曆上記錄每天的天氣狀況，完成下面的統計表：

天氣	用「正」畫記	數量 (天)
☀		
☁		
☔		


8. 這個月哪種天氣最多天？
 (☀ , ☁ , ☔)

六、用 10 表示 10，用 1 表示 1。畫畫看看：每題 4 分，共 8 分

1. 小傑想買一個 65 元的餐盒，要怎麼付錢才會剛好？畫畫看看。


2. 亮亮想買一個 93 元的套餐，但錢不夠，還要補多少元？畫畫看看。






亮亮的錢：



七、做做看看：每題 2 分，共 10 分

下面各買 1 罐的價錢。




1.  : 元；  : 元。
2. 哪種比較貴？圈圈看看。
( , )
3. 下面是小恩的錢，有多少？夠不夠買一盒  ？



小恩有 () 元
(夠 , 不夠)

八、看看圖寫出算式做做看看
看看：每題 4 分，共 8 分



1.  和  共要幾元？

$$\square \bigcirc \square = \square$$

2.  比  多幾元？

$$\square \bigcirc \square = \square$$

九、米可和 40 個同學各猜一次拳，結果紀錄如下，完成表格：每格 2 分，共 6 分

勝負	用「正」畫記	數量
贏	正正正一	
平手	正正一	
輸	正正下	

十、寫出算式做做看看：每題 4 分，共 12 分

1. 媽媽買了 30 顆雞蛋，炒飯用掉了 3 顆，還剩下幾顆雞蛋？

算式：

還剩下 () 顆雞蛋

2. 遊園車有 24 個座位，21 個小朋友每人坐一個座位，還剩下幾個空座位？

算式：

還剩下 () 個空座位

3. 爸爸煮了 36 個芝麻湯圓和 12 個花生湯圓，爸爸共煮了幾個湯圓？

算式：

煮了 () 個湯圓