

一、看月曆回答問題：每格 2 分，共 20 分



民國 109 年		4 月				2020	
日	一	二	三	四	五	六	
			1	2	3	4 兒童節	
5	6	7	8	9	10	11	
12	13	14 校外教學	15	16	17	18	
19	20	21	22	23	24 小芳生日	25	
26	27	28	29	30			

- 4 月有 () 個星期日。
- 4 月的第三個星期五是 4 月 () 日。
- 4 月的最後一天是 4 月 () 日，星期 ()。
- 今天 小芳 是兒童節，是 4 月 () 日，星期 ()，昨天是 () 月 () 日，星期 ()。
- 小芳 每個星期一和星期三都要上游泳課，4 月共要上 () 次課。

二、算算看看：每題 2 分，共 4 分



1. $42 + 8 = \underline{\quad}$ 2. $21 - 5 = \underline{\quad}$

三、看圖做做看看：每答 2 分，共 8 分

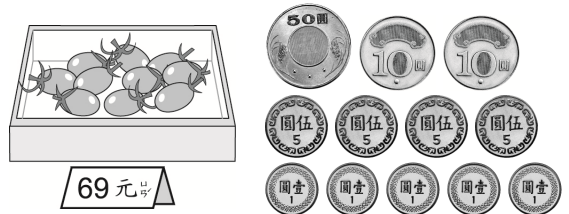
1. 1 張  可換 個 .

2. 小杰 想买一盒 25 元的冰淇淋，要付 () 個

 和 1 個  才會剛好。

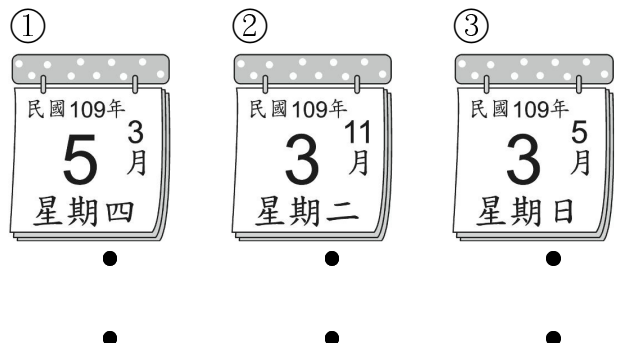
3. 50 個  可換 個 .

4. 奶奶想买一盒番茄，要怎麼付才會剛好？圈圈看看。



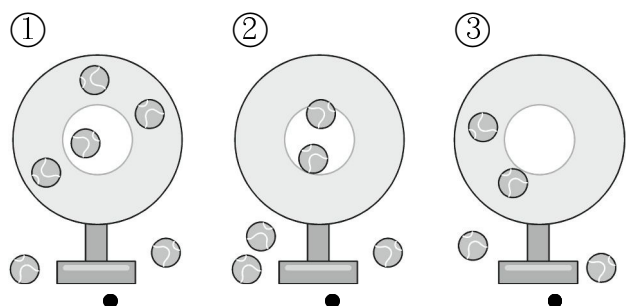
四、連連看看：每小題 2 分，共 12 分

1. 日曆上的那一天 小芳 有什麼活動？



5 月 3 日 看電影	3 月 5 日 投球賽	11 月 3 日 看展覽
----------------	----------------	-----------------

2. 找找看看，是誰的球靶？



小瓜

中 白 色	中 灰 色	沒 中
2	0	3


小美

中 白 色	中 灰 色	沒 中
1	3	2

小芳

中 白 色	中 灰 色	沒 中
0	2	2

五、數數看看，回答下面問題
題：每格 2 分，共 20 分



1. 完成下面表格。

水果				
用「正」畫記				
數量 (顆)				

2. 數量最多的水果是 (, , ,)。

3. 數量最少的水果是 (, , ,)。

六、看看圖做做看看：每答 3 分，共 18 分



1. 哥哥用下面的錢買了一盒水彩，一盒水彩是 () 元。



2. 姐姐想買一本筆記本，可以怎麼付錢？

- (1) 全部用 ，要付 () 個 。
- (2) 全部用 ，要付 () 個 。

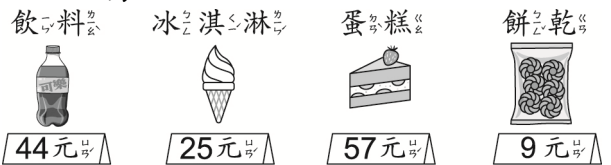
3. 小芳想買一組積木，下面是她的錢，小芳有 () 元，(夠 , 不夠) 買積木。還要補 () 元。



七、將答案比較大的算式圍起來：每題 2 分，共 6 分

1. $82-9$ $82-10$
2. $51+24$ $42+51$
3. $79-8$ $69-8$

八、小芳全家到飲品店，看看圖寫出算式做做看看：每題 3 分，共 12 分



1. 飲品店裡有 23 個人，個人離開後，現在飲品店裡有幾個個人？

算式： _____ 有 () 個人

2. 一個蛋糕比一個冰淇淋貴幾元？

算式： _____ 貴 () 元

3. 姐姐買 2 瓶飲料，要付多少元？

算式： _____ 要付 () 元

4. 媽媽買一個蛋糕和一包餅乾，要付幾元？

算式： _____ 要付 () 元