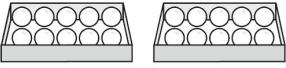
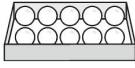

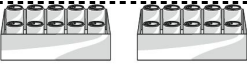





一、填填看看：每題 2 分，共 4 分

1.   
 $32 + 7 = (39)$

2.   
 $56 - 10 = (46)$





二、看看日曆填填看看：每格 1 分，共 6 分





民國 109 年 10 月 1 日 星期四
 民國 109 年 10 月 10 日 星期六



- 烤肉是 (10) 月 (1) 日 星期 (四)。
- 看煙火是 (10) 月 (10) 日 星期 (六)。



三、下表是便利商店今天賣出的飲料數量，完成下表，並回答問題：每格 2 分，共 10 分

飲料				
用「正」畫記	正	正正	正正	正下
數量 (個)	6	12	10	8


▲飲料賣出數量最少的是 ( ,  ,  , )

四、用 10 表示 ，用 1 表示 。畫畫看看，怎麼付錢錢才剛好？每題 4 分，共 12 分 (畫法僅供參考)

1.  

2.  

3. 小香想買一個 38 元的蛋糕，但錢不夠，還要補多少元？畫畫看看。



五、看看月曆回答問題：每格 2 分，共 16 分

民國 109 年	8 月	2020				
日	一	二	三	四	五	六
						1
2	3	4	5	6	7	8 父親節
9	10	11	12	13	14	15
16	17	18	19	20	21	22
23	24	25	26	27	28	29
30	31 開學日					

- 今天 是 開學日，是 8 月 (31) 日，昨天 是 8 月 (30) 日 星期 (日)。
- 父親節 是 8 月 (8) 日，是 第 (2) 個 星期六。
- 彤彤 每個 星期 二 和 星期 四 上 游泳課，這 個 月 會 上 (8) 次 游泳課。
- 8 月 的 第 一 天 是 8 月 (1) 日 星期 (六)。

六、看圖填填看看：每只答2

分，共30分

1. 數數看看，有多少元？

(1)




(20) 元

(2)



(83) 元

2.




(1) 用顏色分分看看。

灰色的貓	(7) 隻
白色的貓	(9) 隻

(2) 用姿勢分分看看。

坐著的貓	(9) 隻
站著的貓	(7) 隻

3.



(1) 完成紀錄表：

糖果				
用「正」畫記	正正	正下	下	下
數量(個)	10	8	3	4

(2) 糖果數量最多的是

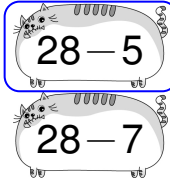


七、圖圖看看：每小題2分，

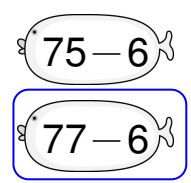
共6分

1. 圈出答案比較大的算式。

(1)




(2)



2. 要怎麼付才剛好？



85元



(圖法僅供參考)



八、寫出算式做做看看：每題

4分，共16分

1. 一盒壽司賣24元，媽媽買了2盒，要付幾元？

算式： $24+24=48$

要付 (48) 元

2. 小智有39張貼紙，老師又給他4張，小智現在有幾張貼紙？

算式： $39+4=43$

有 (43) 張貼紙

3. 公車上有25個人，到站後有6個人下車，公車上還剩幾個個人？

算式： $25-6=19$

還剩 (19) 個人

4. 一瓶優酪乳賣47元，一瓶奶茶賣25元，優酪乳比奶茶貴多少元？

算式： $47-25=22$

貴 (22) 元