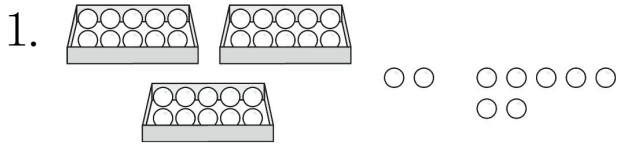
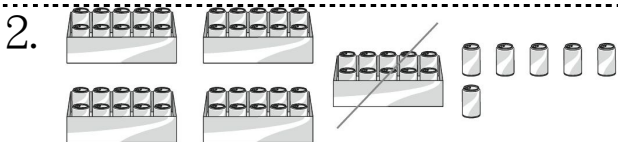


一、填填看看：每題 2 分，

共 4 分




$32 + 7 = (\quad)$



$56 - 10 = (\quad)$





二、看看日曆填填看看：每格 1 分，共 6 分




1. 烤肉是 () 月 () 日的星期 ()。



2. 看煙火是 () 月 () 日星期 ()。


三、下表是便利商店今天賣出的飲料數量，完成下表，並回答問題：每格 2 分，共 10 分

飲料				
用「正」畫記	正	正正	正正	正下
數量 (個)				

▲ 飲料賣出數量最少的是



四、用 10 表示 ，用 1 表示 。畫畫看看，怎麼付錢錢才剛好？每題 4 分，共 12 分



3. 小香想買一個 38 元的蛋糕，但錢不夠，還要補多少元？畫畫看看。



五、看看月曆回答問題：每格 2 分，共 16 分

民國109年	8月	2020				
日	一	二	三	四	五	六
						1
2	3	4	5	6	7	8 父親節
9	10	11	12	13	14	15
16	17	18	19	20	21	22
23	24	25	26	27	28	29
30	31 開學日					

1. 今天 是 開學日，是 8 月 () 日，昨天 是 8 月 () 日星期 ()。

2. 父親節 是 8 月 () 日，是 第 () 個星期六。

3. 彤彤 每個星期 二 和 星期 四 上游泳課，這個月 會上 () 次游泳課。

4. 8 月的 第一 天 是 8 月 () 日星期 ()。

六、看圖填填看看：每只答 2

分，共 30 分

1. 數數看看，有多少元？

(1)




() 元

(2)



() 元

2.




(1) 用顏色分分看看。

灰色的貓	() 隻
白色的貓	() 隻

(2) 用姿勢分分看看。

坐著的貓	() 隻
站著的貓	() 隻

3.



(1) 完成紀錄表：

糖果				
用「正」畫記				
數量 (個)				

(2) 糖果數量最多的是




七、圖圖看看：每小題 2 分，

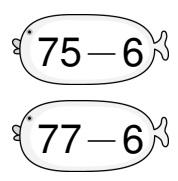
共 6 分

1. 圈出答案比較大的算式。

(1)



(2)



2. 要怎麼付錢才會剛好？



八、寫出算式做做看看：每題

4 分，共 16 分

1. 一盒壽司賣 24 元，媽媽買了 2 盒，要付幾元？

算式： _____

要付 () 元

2. 小智有 39 張貼紙，老師又給他 4 張，小智現在有幾張貼紙？

算式： _____

有 () 張貼紙

3. 公車上有 25 個人，到站後有 6 個人下車，公車上還剩幾個？

算式： _____

還剩 () 個人

4. 一瓶優酪乳賣 47 元，一瓶奶茶賣 25 元，優酪乳比奶茶貴多少元？

算式： _____

貴 () 元