
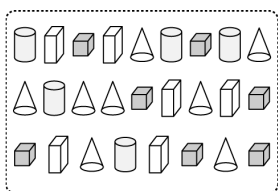


一、看圖填填看：每題 5 分，共 15 分


1. 右邊的動物依一種類可以分成 ( 4 ) 種。



2. 右圖依照形狀來分，可以分成 ( 4 ) 種。

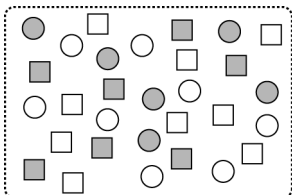


3. 右圖依照圖案來分，可以分成 ( 5 ) 種。

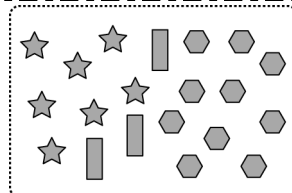


二、圖圖看看：每答 4 分，共 28 分

1. 右邊的圖形比較適合用什麼來分類？用 ( 顏色 )，大小 ( ) 分類。




2. 右邊的圖形比較適合用什麼來分類？用 ( 形狀 )，大小 ( )，顏色 ( ) 來分類。




3. 把種類一樣的一起圈起來。

(1)



(2)



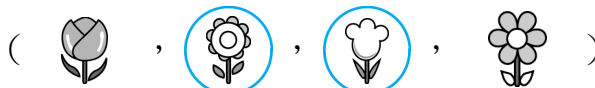
種類				
用「正」畫記	正	正正	正下	T

有 ( 10 隻 )，( 8 隻 )，5 隻。

5. 一個 ○ 代表一朵花。

花				
畫記	○○○○	○○○	○○○	○○○
	○○○	○○○	○○○	○
	○○○	○○	○○○	

哪兩種花一樣多？



三、做做看看：每答 3 分，共 57 分


1.

畫記	數量
正	5 個
正下	8 個
正一	6 個

2.

畫記	數量
下	3 個
正正	10 個
下	4 個

3. 用「正」字畫記，完成統計表：



畫記	正	正下	T
數量 (個)	5	8	2

4. 下表是餐廳收到學校的便當訂單，圈圈看看，填填看看。

種類	雞腿飯	豬排飯	香腸飯	肉燥飯
畫記	正正 正	正正 正	正正 下	正正
數量 (個)	15	14	13	9

(1) 訂購數量最多的是

( 雞腿飯 )，豬排飯，香腸飯，肉燥飯。

(2) 訂購數量最少的是

( 雞腿飯 )，豬排飯，香腸飯，( 肉燥飯 )。

(3) 訂購數量最多和最少的相差 ( 6 ) 個。