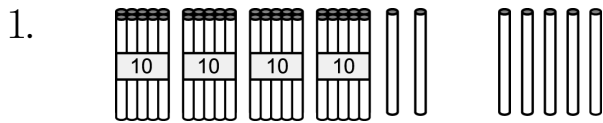


一、看圖填算式：每格 2 分，共 18 分




$42 + 5 = (\quad)$



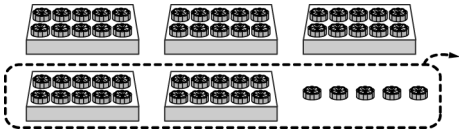
$34 + 40 = (\quad)$

3. 拿走了 30 枝，剩下幾枝？

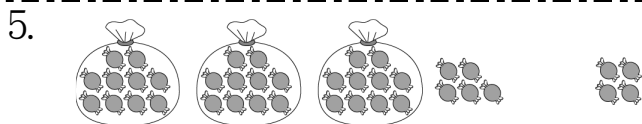


$63 - 30 = (\quad)$

4. 拿走了 25 個，剩下幾個？

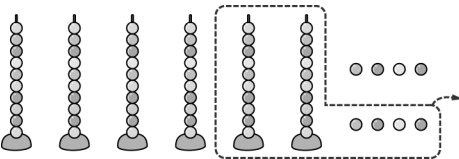


$55 - 25 = (\quad)$

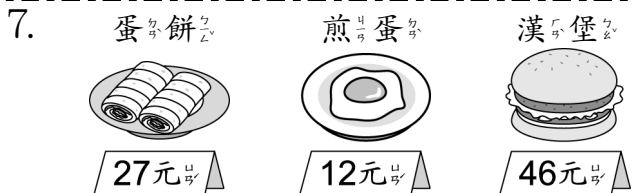


$35 + 4 = (\quad)$

6. 拿走了 24 顆，剩下幾顆？



$68 - 24 = (\quad)$



- 買一個蛋餅和一個煎蛋，共要花 () 元。
- 買一個煎蛋和一個漢堡，共要花 () 元。
- 一個蛋餅比一個煎蛋貴 () 元。

二、算算看看：每題 3 分，共 18 分

- $55 + 43 = (\quad)$
- $53 + 15 = (\quad)$
- $77 + 7 = (\quad)$
- $37 - 25 = (\quad)$
- $42 - 11 = (\quad)$
- $80 - 50 = (\quad)$

三、連連看看：每題 4 分，共 24 分

① $78 - 54$	• 24 •	• ④ $18 + 6$
② $6 + 32$	• 13 •	• ⑤ $47 - 34$
③ $26 - 13$	• 38 •	• ⑥ $24 + 14$

四、答案比比較大的算式打✓：

每題 4 分，共 16 分

- | | |
|---------------------------------------|---------------------------------------|
| 1. <input type="checkbox"/> $81 + 18$ | 2. <input type="checkbox"/> $56 - 41$ |
| <input type="checkbox"/> $61 + 18$ | <input type="checkbox"/> $66 - 41$ |
| 3. <input type="checkbox"/> $60 - 10$ | 4. <input type="checkbox"/> $52 + 17$ |
| <input type="checkbox"/> $60 - 20$ | <input type="checkbox"/> $42 + 17$ |

五、寫出算式做看看：每題 6 分，共 24 分

- 花園裡有 35 朵玫瑰花和 2 朵百合花，花園裡一共有幾朵花？
算式： () 朵
- 一枝梅子麥芽糖 13 元，阿昌買了 2 枝，共付了幾元？
算式： () 元
- 媽媽做了 39 個布丁，被大雄吃掉 5 個，還剩下幾個布丁？
算式： () 個
- 小芸有 33 元，小勝有 20 元，小勝的錢比小芸少多少元？
算式： 少 () 元