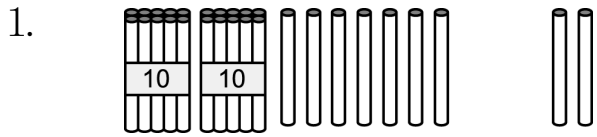
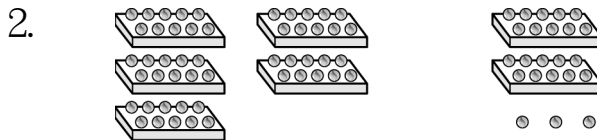


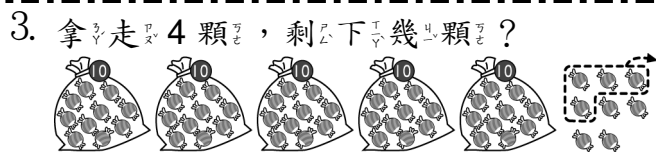
一、看圖填算式：每題 3 分，共 18 分



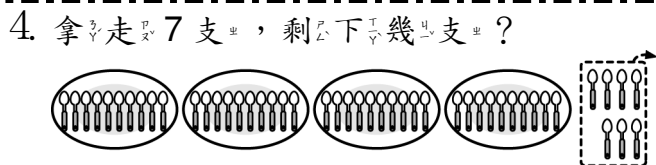
$27 + 2 = (29)$




$50 + 23 = (73)$



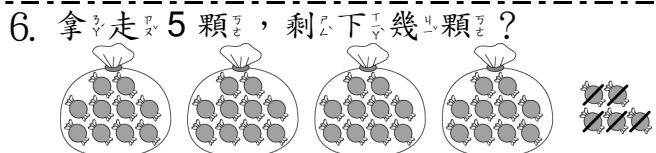
$58 - 4 = (54)$



$47 - 7 = (40)$



$56 + 9 = (65)$



$45 - 5 = (40)$

二、對的答案打 \checkmark ：每題 2 分，共 4 分

1. $41 - 5$ 46 2. $38 + 21$ 59 60

三、算算看：每題 3 分，共 24 分

- $32 + 20 = (52)$
- $51 + 15 = (66)$
- $15 + 4 = (19)$
- $23 + 6 = (29)$
- $53 - 32 = (21)$
- $99 - 91 = (8)$
- $57 - 25 = (32)$
- $89 - 70 = (19)$

四、把答案比較小的算式圈起來：每題 2 分，共 8 分

- | | |
|-------------|--------------|
| 1. $30 + 4$ | 2. $20 + 40$ |
| $5 + 30$ | $30 + 40$ |
| 3. $23 - 6$ | 4. $63 - 3$ |
| $23 - 5$ | $36 - 3$ |

五、下面算式，答對的打 \checkmark ，錯的打 \times ：每題 2 分，共 16 分

- | | |
|--|--|
| 1. <input type="checkbox"/> $67 - 6 = 7$ | 2. <input checked="" type="checkbox"/> $79 - 9 = 70$ |
| 3. <input type="checkbox"/> $38 + 3 = 31$ | 4. <input type="checkbox"/> $45 - 40 = 41$ |
| 5. <input checked="" type="checkbox"/> $18 + 5 = 23$ | 6. <input checked="" type="checkbox"/> $25 - 2 = 23$ |
| 7. <input checked="" type="checkbox"/> $3 + 38 = 41$ | 8. <input type="checkbox"/> $6 + 26 = 86$ |

六、連連看：每題 2 分，共 6 分

① $38 - 2$	•	① \square	•	$\sphericalangle 30$
② $5 + 25$	•	② \sphericalangle	•	$\sphericalangle 32$
③ $3 + 29$	•	③ \sphericalangle	•	$\square 36$

七、寫出算式做做看：每題 6 分，共 24 分

- 腳踏車出租店裡有 67 輛腳踏車，借走 7 輛後，還剩下幾輛腳踏車？
 算式： $67 - 7 = 60$
 (60) 輛
- 餐廳裡有 25 個人正在吃飯，後來又來了 3 個人，現在餐廳裡有幾個個人？
 算式： $25 + 3 = 28$
 (28) 個人
- 小愛有 24 張貼紙，妹妹有 13 張貼紙，小愛比妹妹多幾張貼紙？
 算式： $24 - 13 = 11$
 (11) 張
- 池塘裡有 3 隻公鴨和 27 隻母鴨，共有幾隻小鴨？
 算式： $3 + 27 = 30$
 (30) 隻