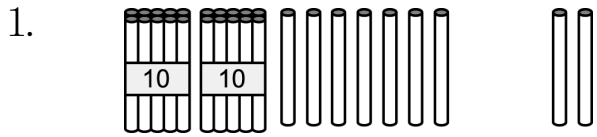
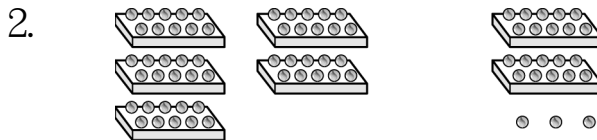


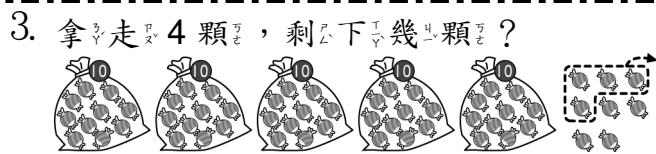
一、看圖填算式：每題 3 分，共 18 分



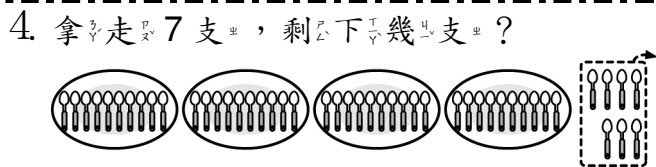
$27 + 2 = (\quad)$




$50 + 23 = (\quad)$



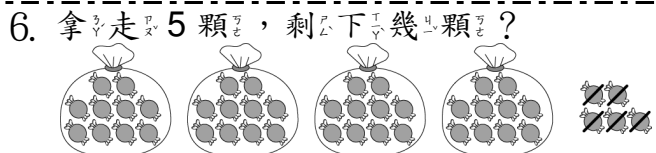
$58 - 4 = (\quad)$



$47 - 7 = (\quad)$



$56 + 9 = (\quad)$



$45 - 5 = (\quad)$

二、對的答案打 \checkmark ：每題 2 分，共 4 分

1. 36 41-5 46 2. 59 38+21 60

三、算算看：每題 3 分，共 24 分

- $32 + 20 = (\quad)$
- $51 + 15 = (\quad)$
- $15 + 4 = (\quad)$
- $23 + 6 = (\quad)$
- $53 - 32 = (\quad)$
- $99 - 91 = (\quad)$
- $57 - 25 = (\quad)$
- $89 - 70 = (\quad)$

四、把答案比較小的算式圈起來：每題 2 分，共 8 分

- | | |
|-------------|--------------|
| 1. $30 + 4$ | 2. $20 + 40$ |
| $5 + 30$ | $30 + 40$ |
| 3. $23 - 6$ | 4. $63 - 3$ |
| $23 - 5$ | $36 - 3$ |

五、下面算式，答對的打 \checkmark ，錯的打 \times ：每題 2 分，共 16 分

- | | |
|---|--|
| 1. <input type="checkbox"/> $67 - 6 = 7$ | 2. <input type="checkbox"/> $79 - 9 = 70$ |
| 3. <input type="checkbox"/> $38 + 3 = 31$ | 4. <input type="checkbox"/> $45 - 40 = 41$ |
| 5. <input type="checkbox"/> $18 + 5 = 23$ | 6. <input type="checkbox"/> $25 - 2 = 23$ |
| 7. <input type="checkbox"/> $3 + 38 = 41$ | 8. <input type="checkbox"/> $6 + 26 = 86$ |

六、連連看：每題 2 分，共 6 分

① $38 - 2$	•	•	ㄅ 30
② $5 + 25$	•	•	ㄆ 32
③ $3 + 29$	•	•	ㄇ 36

七、寫出算式做做看：每題 6 分，共 24 分

- 腳踏車出租店裡有 67 輛腳踏車，借走 7 輛後，還剩下幾輛腳踏車？
算式：
() 輛
- 餐廳裡有 25 個人正在吃飯，後來又來了 3 個人，現在餐廳裡有幾個個人？
算式：
() 個
- 小愛有 24 張貼紙，妹妹有 13 張貼紙，小愛比妹妹多幾張貼紙？
算式：
() 張
- 池塘裡有 3 隻公鴨和 27 隻母鴨，共有幾隻小鴨？
算式：
() 隻