
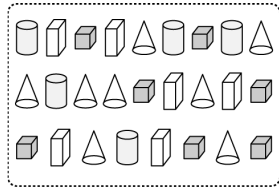


一、看圖填填看：每題 5 分，共 15 分


1. 右邊的動物依一種類可以分成幾種。



2. 右邊的圖依照形體來分，可以分成幾種。

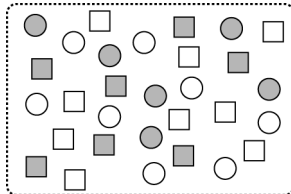


3. 右邊的圖依照圖案來分，可以分成幾種。

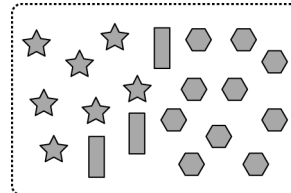


二、圖圖看看：每答 4 分，共 28 分

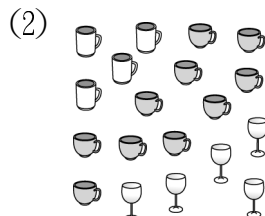

1. 右邊的圖形比較適合用什麼來分類？用什麼顏色，大小來分類。



2. 右邊的圖形比較適合用什麼來分類？用什麼形狀，顏色來分類。



3. 把種類一樣的一起圈起來。



4.


種類				
用「正」畫記	正	正正	正下	T

有 ( 10 隻 , 8 隻 , 5 隻 )。

5. 一個 ○ 代表一朵花。

花				
畫記	○○○○	○○	○○	○○○
	○○○○	○○	○○	○
	○○○	○○	○○○	

哪兩種花一樣多？



三、做做看看：每答 3 分，共 57 分


1.

畫記	數量
正	個
正下	個
正一	個

2.

畫記	數量
下	個
正正	個
下	個

3. 用「正」字畫記，完成統計表：



畫記			
數量 (個)			

4. 下表是餐廳收到學校的便當訂單，圈看看，填填看。

種類	雞腿飯	豬排飯	香腸飯	肉燥飯
畫記	正正	正正	正正	正下
數量 (個)				

- (1) 訂購數量最多的是 ( 雞腿飯 , 豬排飯 , 香腸飯 , 肉燥飯 )。
- (2) 訂購數量最少的是 ( 雞腿飯 , 豬排飯 , 香腸飯 , 肉燥飯 )。
- (3) 訂購數量最多和最少的相差 ( ) 個。